

# 数理計画法

## (数理最適化) 第3回


### 線形計画問題の諸定理


塩浦昭義 Akiyoshi Shioura

(情報科学研究科 准教授)

[shioura@dais.is.tohoku.ac.jp](mailto:shioura@dais.is.tohoku.ac.jp)

<http://www.dais.is.tohoku.ac.jp/~shioura/teaching>





# 復習：主問題と双対問題

主問題 (primal problem)

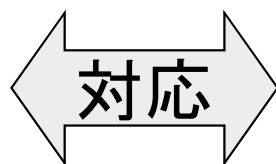
双対問題 (dual problem)

$$\begin{aligned} \text{最小化: } & c_1x_1 + \cdots + c_nx_n \\ \text{条件: } & a_{11}x_1 + \cdots + a_{1n}x_n \geq b_1 \\ & \vdots \\ & a_{m1}x_1 + \cdots + a_{mn}x_n \geq b_m \\ & x_1 \geq 0, \dots, x_n \geq 0 \end{aligned}$$

$$\begin{aligned} \text{最大化: } & b_1y_1 + \cdots + b_my_m \\ \text{条件: } & a_{11}y_1 + \cdots + a_{m1}y_m \leq c_1 \\ & \vdots \\ & a_{1n}y_1 + \cdots + a_{mn}y_m \leq c_n \\ & y_1, y_2, \dots, y_m \geq 0 \end{aligned}$$

主問題の  $i$  番目の不等式

$$a_{i1}x_1 + \cdots + a_{in}x_n \geq b_i$$

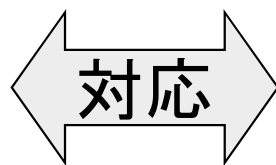


双対問題の  $i$  番目の変数

$$y_i \geq 0$$

主問題の  $j$  番目の変数


$$x_j \geq 0$$



双対問題の  $j$  番目の不等式

$$a_{1j}y_1 + \cdots + a_{mj}y_m \leq c_j$$

# 実行可能, 実行不可能



定義: 不等式標準形のLPに対し

- 実行可能(feasible)  $\Leftrightarrow$  許容解(実行可能解)が存在する
- 実行不可能(infeasible)  $\Leftrightarrow$  許容解(実行可能解)が存在しない

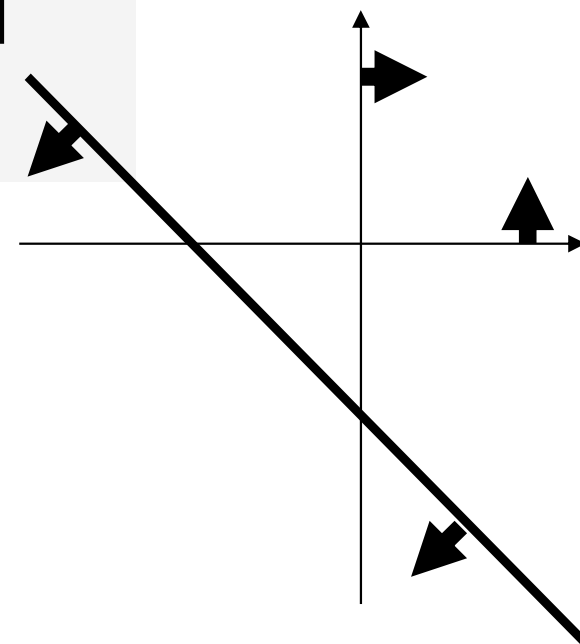
$$\begin{array}{l} \text{最小化 } x + 2y \\ \text{条件 } -x - y \geq -3 \\ \quad \quad x, y \geq 0 \end{array}$$


実行可能

(1, 1)は許容解

$$\begin{array}{l} \text{最小化 } x + 2y \\ \text{条件 } -x - y \geq 1 \\ \quad \quad x, y \geq 0 \end{array}$$

実行不可能





# 有界, 非有界

定義: 実行可能なLPは (最小化の場合)

- 有界(bounded)  
⇔ 任意の許容解の目的関数値がある定数より大きい
- 非有界(unbounded) ⇔ 目的関数値をいくらでも小さく出来る

$$\begin{array}{l} \text{最小化 } x + 2y \\ \text{条件 } -x - y \geq -3 \\ \quad x, y \geq 0 \end{array}$$

有界

目的関数値  $\geq 0$


$$\begin{array}{l} \text{最小化 } -x - y \\ \text{条件 } x + y \geq 0 \\ \quad x, y \geq 0 \end{array}$$

非有界

任意の  $\alpha > 0$  に対し  $(\alpha, \alpha)$  は許容解

目的関数値  $= -2\alpha$

# LPの基本定理



定理3. 1 (基本定理, fundamental theorem)

任意のLPに対し、

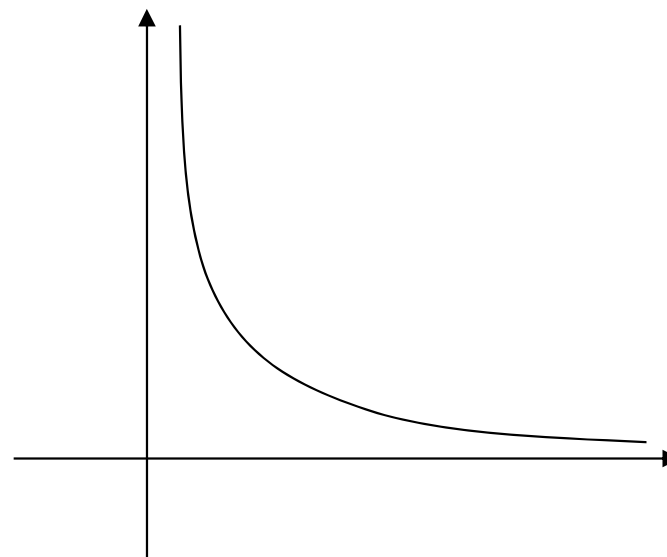
実行可能かつ有界  $\Rightarrow$  最適解が存在


※非線形計画の場合は成り立つとは限らない！

$$\begin{array}{ll} \text{最小化} & y \\ \text{条件} & xy \geq 1 \\ & x, y \geq 0 \end{array}$$

最適値 = 0

でも  $y = 0$  なる許容解はない





# 弱双対定理


定理3. 2 (弱双対定理, weak duality theorem):

$\mathbf{x}$ : 主問題の許容解,  $\mathbf{y}$ : 双対問題の許容解

$$\sum_{j=1}^n c_j x_j \geq \sum_{i=1}^m b_i y_i$$

主問題の目的関数値

双対問題の目的関数値



# 弱双対定理の証明

シグマの順番  
を換える

$$\sum_{j=1}^n c_j x_j \geq \sum_{j=1}^n \left( \sum_{i=1}^m a_{ij} y_i \right) x_j = \sum_{i=1}^m \left( \sum_{j=1}^n a_{ij} x_j \right) y_i \geq \sum_{i=1}^m b_i y_i$$

最小化  $c_1 x_1 + \dots + c_n x_n$

条件

$$a_{11} x_1 + \dots + a_{1n} x_n \geq b_1$$

$$a_{21} x_1 + \dots + a_{2n} x_n \geq b_2$$

...

$$a_{m1} x_1 + \dots + a_{mn} x_n \geq b_m$$

$$x_1 \geq 0, \dots, x_n \geq 0$$

最大化  $b_1 y_1 + \dots + b_m y_m$

条件


$$a_{11} y_1 + \dots + a_{m1} y_m \leq c_1$$

$$a_{12} y_1 + \dots + a_{m2} y_m \leq c_2$$

...

$$a_{1n} y_1 + \dots + a_{mn} y_n \leq c_n$$

$$y_1 \geq 0, \dots, y_m \geq 0$$



# 弱双対定理の系

系3. 1

主問題が非有界  $\Rightarrow$  双対問題は実行不可能

双対問題が非有界  $\Rightarrow$  主問題は実行不可能

証明: 対偶 (双対: 実行可能  $\Rightarrow$  主: 有界) を示す


双対問題が実行可能と仮定

$y$ : 双対問題の許容解、  $\alpha = \sum b_i y_i$

弱双対定理より、主問題の任意の許容解  $x$  に対し

$$\sum c_j x_j \geq \alpha \quad \therefore \text{主問題は有界}$$





# 弱双対定理の系

系3. 2


$\mathbf{x}$ : 主問題の許容解,  $\mathbf{y}$ : 双対問題の許容解,

$$\sum_{j=1}^n c_j x_j = \sum_{i=1}^m b_i y_i \text{ を満たす}$$

$\Rightarrow \mathbf{x}$ : 主問題の最適解、 $\mathbf{y}$ : 双対問題の最適解

証明→レポート問題

弱双対定理(定理3. 2)を使って証明すること



# 弱双対定理の系

## 例3.3

最小化  $-2x_1 - x_2 - x_3$

条件  $-2x_1 - 2x_2 + x_3 \geq -4$

$$-2x_1 \quad - 4x_3 \geq -4$$

$$4x_1 - 3x_2 + x_3 \geq -1$$

$$x_1 \geq 0, x_2 \geq 0, x_3 \geq 0$$

最大化  $-4y_1 - 4y_2 - y_3$

条件  $-2y_1 - 2y_2 + 4y_3 \leq -2$

$$-2y_1 \quad - 3y_3 \leq -1$$

$$y_1 - 4y_2 + y_3 \leq -1$$

$$y_1 \geq 0, y_2 \geq 0, y_3 \geq 0$$


$x = (2, 0, 0)$ : 許容解

$y = (3/5, 2/5, 0)$ : 許容解

$$-2 \times 2 - 0 - 0 = -4 = -4 \times (3/5) - 4 \times (2/5) - 0$$

⇒ 系3.2より、 $x, y$  はそれぞれ最適解


# 双対定理



定理3.3 (双対定理, duality theorem):  
主問題または双対問題が最適解をもつ  
⇒ 他方も最適解をもち、かつ最適値が一致する


証明 → 後日

# 主問題と双対問題の答えの組合せ



			双対問題		
			実行可能		実行不可能
			最適解	非有界	
主問題	実行可能	最適解	○ (双対定理)	× (系3. 1)	× (双対定理)
		非有界	× (系3. 1)	× (系3. 1)	○ (系3. 1)
	実行不可能	× (双対定理)	○ (系3. 1)	○	


# 相補性定理 (complementarity slackness theorem)



定理 3.4:

$x$ : 主問題の許容解,  $y$ : 双対問題の許容解

$x$  および  $y$  は最適解



相補性条件

(complementarity  
slackness condition)


各  $j = 1, \dots, n$  について

$\sum_i a_{ij} y_i \leq c_j$  と  $x_j \geq 0$  のどちらかは等号成立

各  $i = 1, \dots, m$  について

$\sum_j a_{ij} x_j \geq b_i$  と  $y_i \geq 0$  のどちらかは等号成立

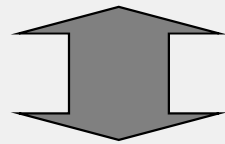
# 相補性定理の証明



$x$ : 主問題の許容解

$y$ : 双対問題の許容解

$x, y$  は最適解



$$\sum_i a_{ij} y_i = c_j \quad \text{または} \quad x_j = 0 \quad (\forall j = 1, 2, \dots, n)$$


$$\sum_j a_{ij} x_j = b_i \quad \text{または} \quad y_i = 0 \quad (\forall i = 1, 2, \dots, m)$$

証明: 弱双対定理の証明より

$$\sum_{j=1}^n c_j x_j \geq \sum_{j=1}^n \left( \sum_{i=1}^m a_{ij} y_i \right) x_j = \sum_{i=1}^m \left( \sum_{j=1}^n a_{ij} x_j \right) y_i \geq \sum_{i=1}^m b_i y_i$$

$x, y$ が最適  $\Leftrightarrow$  最初の項 = 最後の項

$$\Leftrightarrow (\sum_i a_{ij} y_i) x_j = c_j x_j, (\sum_i a_{ij} x_j) y_i = b_i y_i \quad \Leftrightarrow \text{相補性}$$



# レポート問題

問1: 系3. 2を証明せよ.


問2: 下記の2つのLPの双対問題を求めなさい.

また, それぞれの双対問題が

(a)最適解をもつ, (b)非有界, (c)実行不可能  
のいずれに当てはまるか, 調べなさい(理由も書くこと)

$$\begin{array}{ll} \text{最小化} & x + 2y \\ \text{条件} & -x - y \geq -3 \\ & x, y \geq 0 \end{array}$$

$$\begin{array}{ll} \text{最小化} & x + 2y \\ \text{条件} & -x - y \geq 1 \\ & x, y \geq 0 \end{array}$$



# レポート問題

問3: 右の線形計画問題について考える.

(a) [P] の双対問題[D]を書きなさい.

(b) [P]と[D]に対する相補性条件をすべて(具体的に)書きなさい.

(c) [P] の最適解のひとつは  $x_1 = 2, x_2 = x_3 = 0$  である.

相補性定理を使って, 双対問題[D]の最適解をすべて計算しなさい. 計算の過程も書くこと.

$$\begin{array}{l|l} & \begin{array}{l} \text{最小化} \\ \text{条件} \end{array} \\ \text{[P]} & \begin{array}{l} -2x_1 \quad -x_2 \quad +x_3 \\ -2x_1 \quad -2x_2 \quad +x_3 \geq -4 \\ -2x_1 \quad \quad \quad -4x_3 \geq -4 \\ 4x_1 \quad -3x_2 \quad +x_3 \geq 2 \\ x_1 \geq 0, x_2 \geq 0, x_3 \geq 0 \end{array} \end{array}$$